

УЧЕНИК:



ТАКМИЧЕЊЕ ИЗ МАТЕМАТИКЕ

ОДЕЉЕЊЕ 1 / 3

1. По дворишту су шетале гуске и мачке . Дечак је бројао само њихове ноге и избројао 8 ногу . Колико је у том дворишту било гусака, а колико мачака?

Нацртај:

Одговори: _____

2. Каћа је нацртала троугао лево од квадрата. Између њих нацртала је круг, а правоугаоник десно од квадрата. У ком поретку је Каћа нацртала све те фигуре?

Нацртај:

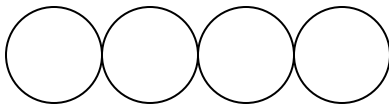
3. Чоколадица кошта 8 динара. Мина је купила 2 чоколадице и дала продавачици новчаницу од 20 динара.

а) Колики је кусур?

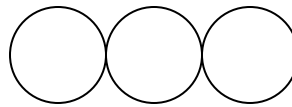
Рачунај:

б) На који начин је продавачица могла да врати Мини кусур? Које све кованице је могла да користи?

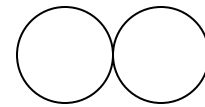
1. решење



2. решење




3. решење



4. Мене зову Оља. Мој брат има само једну сестру. Како се зове сестра мог брата?

Одговори: _____

5. Колико резова треба направити да би се оваква торта поделила на 4 дела?



Одговори: _____
