

## ДАН, МЕСЕЦ, ГОДИНА

1. Колико часова траје један дан? \_\_\_\_\_

2. Светли део дана назива се \_\_\_\_\_, а тамни део дана \_\_\_\_\_.

3. Повежи правилно делове дана.

ПОДНЕ

ЈУТРО

ПРЕ ПОДНЕ

НОЋ

ВЕЧЕ

ПОНОЋ

ПОСЛЕ ПОДНЕ

Када се заврши 24 сата, тачно у 00:00 је.....

Део дана после 12 сати до заласка Сунца.

Доба дана када излази Сунце.

Део дана од јутра до 12 сати.

Део дана од заласка Сунца до одласка на спавање.

Део дана од одласка на спавање до изласка Сунца.

Половина дана је у 12 сати.

4. Колико има сати ?



5. Колико кругова направи мала казаљка у току једног дана, а колико кругова направи велика казаљка?

6. Који месец у години има 28 или 29 дана? Заокружи тачан одговор.

- а) март      б) август      в) фебруар

7. Колико дана има у години? Заокружи тачан одговор.

- а) 375      б) 385      в) 365

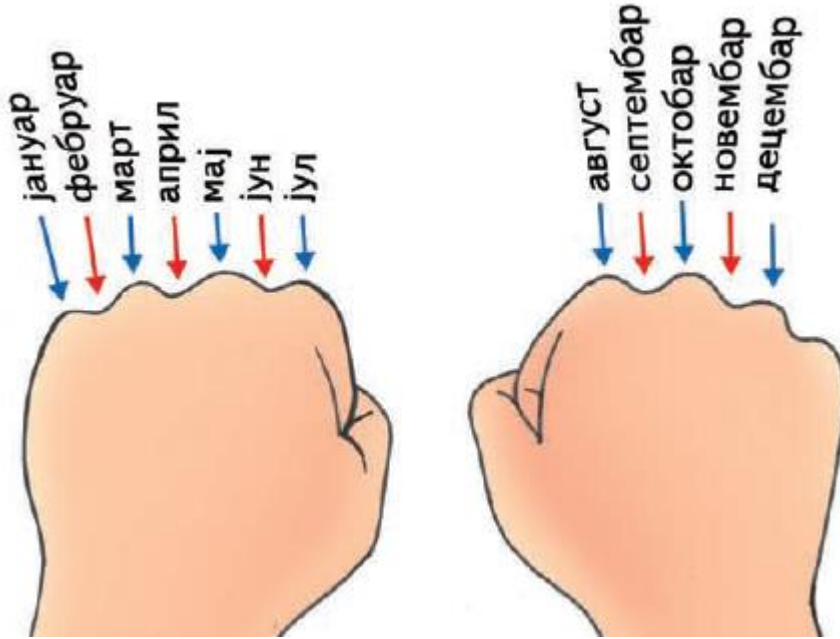
8. Како се назива година у којој фебруар има 29 дана? \_\_\_\_\_

Колико дана броји та година? \_\_\_\_\_

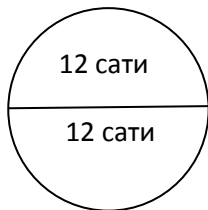
9. Година која траје од 1. јануара до 31. децембра назива се \_\_\_\_\_

Година која траје од 1. септембра до 31. августа назива се \_\_\_\_\_

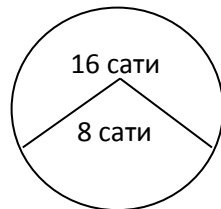
10. Поред сваког месеца упиши колико дана траје.



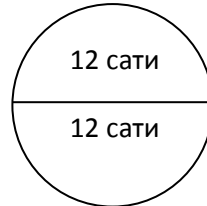
11. Испод сваке слике напиши који дан она представља.



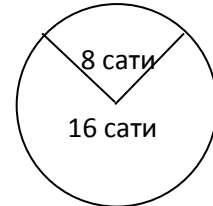
\_\_\_\_\_  
\_\_\_\_\_



\_\_\_\_\_  
\_\_\_\_\_



\_\_\_\_\_  
\_\_\_\_\_



\_\_\_\_\_  
\_\_\_\_\_